

【図版を使った問題】（難易度：中）

次の風刺画とそれに関連した文を読み、下記の設問に答えなさい。



上の風刺画は①19世紀の前半に開催された会議を示している。会議は、参加諸国の利害調整で難航した。風刺画には、オーストリアやプロイセン、イギリス、ロシア、フランスの代表が描かれている。一番左の男性はヴェネツィアとロンバルディアを獲得しようとしていることから、彼は（ 1 ）の代表であると考えられる。また、右から2番目の男性は（ 2 ）を手にしていることから、ロシアの代表であると考えられる。会議の結果、ヨーロッパでは正統主義と勢力均衡の考えに基づく国際秩序が形成された。また、19世紀は、②欧米国民国家が成立していった時期にもなった。

問1 本文中の（ 1 ）に入る国名として、正しいものを次の（ア）～（カ）から選び、記号で答えなさい。


- | | | |
|-----------|----------|---------|
| （ア）オランダ | （イ）プロイセン | （ウ）イギリス |
| （エ）オーストリア | （オ）フランス | （カ）イタリア |

問2 本文中の（ 2 ）に入る語句として、正しいものを（ア）～（カ）から選び、記号で答えなさい。

- | | | |
|-------------|---------|-----------|
| （ア）南ネーデルラント | （イ）マルタ島 | （ウ）ラインラント |
| （エ）セイロン島 | （オ）スイス | （カ）ポーランド |

問3 下線部①について、風刺画の一番右に描かれている男性は、実際にはこの会議には参加していない。しかし、会議への影響が大きかったため、風刺画には描かれている。この人物の名前を答えなさい。また、彼が再び権力を握った後、プロイセンやイギリスと戦い敗れた戦いの名称を答えなさい。

問4 下線部②に関連して、下の**絵画あ**は、19世紀に発展していったアメリカのゲティスバーグで行われた、ある出来事を示している。(A)・(B)に答えなさい。



(A) この絵画に描かれた大統領を選択肢の(X)・(Y)から、その大統領について述べた文を(I)・(II)から選び、その組合せとして正しいものを(ア)～(エ)から選び、記号で答えなさい。

大統領 : (X) ジャクソン (Y) リンカン

説明文 : (I) 絵画に描かれている大統領は「人民の人民による人民のための政治」を訴え、ホームステッド法を制定し西部開拓を推進した。

(II) 絵画に描かれている大統領は「明白なる運命」をスローガンに西部開拓を正当化し、先住民強制移住法を制定した。

(ア) XとI (イ) XとII (ウ) YとI (エ) YとII

(B) 19世紀のアメリカは領土拡大を進めた。その中で敷設されたのが大陸横断鉄道である。大陸横断鉄道に関連したI・IIの文の正誤を判定し、その組合せとして正しいものを(ア)～(エ)から選び、記号で答えなさい。

I : 最初の大陸横断鉄道は1869年に開通した。これは、エジプトのスエズ運河の完成と同時期であった。

II : 鉄道建設は西からは中国系のクーリー(苦力)が、東からはアイルランド人移民が主な労働力として使われた。

(ア) ともに正しい (イ) Iのみ正しい

(ウ) IIのみ正しい (エ) ともに誤り

問5 19世紀のイギリスに関する (A)・(B) に答えなさい。



絵画い



絵画う

- (A) 産業革命によって世界経済の中心となったイギリスでは、国内で様々な自由主義改革が進められた。そのような中、上の絵画いに描かれるような出来事の第1回目が開催された。この国際的イベントを何というか。
- (B) 19世紀のアイルランドを描いた風刺画の1つが絵画うである。アイルランドの人口を激減させた要因の1つに、1840年代の大飢饉が挙げられる。この大飢饉はある作物の疫病による凶作が発生したことが大きな要因であった。ある作物とは何か。答えなさい。
- (C) (B) の結果、多くの死者が出たが、それ以降も人口が減少していった。絵画うを参考にして、(B) で挙げたものを除き、その要因を1つ挙げなさい。

問6 オーストリアとプロイセンは、19世紀の前半に開催された国際会議の結果認められたドイツ連邦に属していた。その後のドイツ統一に関する歴史の一場面を描いたのが、下の絵画えである。絵画が示す出来事が起こった場所X・Yと出来事の説明I・IIのうち、正しいものの組合せを (ア) ~ (エ) から選び、記号で答えなさい。



絵画え

- 場所** X : ポツダムのサンスーシ宮殿 Y : パリ郊外のヴェルサイユ宮殿
- 説明** I : この絵画の中央にいる白い服装の人物はビスマルクであり、絵画はドイツ帝国の成立を宣言する場面を描いている。
- II : この会議の中央にいる白い服装の人物はメッテルニヒであり、絵画はオーストリア=ハンガリー帝国の成立を宣言する場面を描いている。
- (ア) XとI (イ) XとII (ウ) YとI (エ) YとII

問7 19世紀のロシアについて、右の**絵画お**は、ロシアの皇帝が農奴に身分的自由を認めた勅令を布告する様子を象徴的に描いたものである。(A)・(B)に答えなさい。

(A) この皇帝の名前を答えなさい。


(B) この皇帝の治世のロシアに関して述べた (ア) ~ (エ) のうち、正しいものを選び、答えなさい。

(ア) この皇帝の改革の結果、クリミア戦争に勝利をおさめ、南下政策を進展させた。

(イ) この皇帝は、皇帝による改革を歓迎したナロードニキと協力をしていった。

(ウ) この皇帝の改革の後も、農奴の多くはミール（農村共同体）にしばられた。

(エ) この皇帝のもと、ロシアはオスマン帝国からベッサラビアを獲得することができた。



問8 下の**絵画か**は19世紀のフランスでの出来事について描かれている。この絵画および絵画が示す出来事について述べた (ア) ~ (エ) のうち、**誤っているもの**を1つ選び、記号で答えなさい。




(ア) この出来事の結果、フランスでは第二共和政が成立した。

(イ) この絵画はロマン主義画家のドラクロワが描いた。

(ウ) この出来事の結果、王位を追われたのは、シャルル10世である。

(エ) この絵画では自由の女神が三色旗と銃を手に民衆を導いている様子が描かれている。

問9 問4～問8に登場する、**絵画あ**、**絵画い**、**絵画え**、**絵画お**、**絵画か**、が示す出来事を年代順に並びかえ、記号で答えなさい。



〈模範解答例〉

問 1	エ	問 2	カ	問 3	人物名 ナポレオン (= ボナパルト)	戦いの名称 ワーテルローの戦い
問 4	(A) ウ	(B) ア	問 5	(A) 万国博覧会	(B) ジャガイモ	(C) 移民
問 6	ウ	問 7	(A) アレクサンドル2世	(B) ウ	問 8	ア
問 9	お → い → え → か → あ					

※配点

問4・問6・問7 (B)・問8・問9は各2点。残りは各1点 計20点